

専 門 教 養
令和 3 年 7 月
60 分

受 験 教 科 等
特別支援学校中・高 社 会

## 注 意


- 1 指示があるまで、問題冊子を開いてはいけません。
- 2 全て係員の指示に従って、静粛に受験してください。
- 3 机上には、受験票、筆記用具、時計以外のものを出してはいけません。
- 4 他の受験者の迷惑になるような行為、スマートフォン等の使用及び不正行為をしてはいけません。
- 5 解答時間は60分です。途中退出はできません。
- 6 問題冊子のページ数は、21ページです。はじめにページ数を確認してください。
- 7 解答用紙に、**必要事項が正しく記入・マークされていない場合には、解答は全て無効**となります。  
解答用紙の【1】の欄には、**受験番号**を記入し、**受験番号に対応する数字をマーク**してください。  
【2】の欄には、**氏名**を記入してください。ただし、【3】の選択問題を表す欄のマークは**不要**です。
- 8 この問題は、**教科等に関する問題** 1 ~ 3、**特別支援教育の専門に関する問題** I ~ IV  
の各問題から構成されています。
- 9 問題冊子の余白等は、適宜使用しても構いませんが、どのページも切り離してはいけません。
- 10 問題文中の「学習指導要領」は、特に指示がある場合を除いて、平成31年告示の「学習指導要領」  
を表しています。
- 11 問題の内容についての質問には一切応じません。

## ===== 解答上の注意 =====

- 1 解答は、問題文や解答用紙の注意事項に従って、解答欄にマークしてください。各問に対して、  
正答は一つだけです。**各解答欄に二つ以上マークした場合は誤り**とします。
- 2 「解答番号は 1。」と表示のある問に対して、3と解答する場合には、次の(例)のよう  
に解答番号 1 の解答欄の③にマークしてください。

(例)

解答 番号	解答欄
<span style="border: 1px solid black; padding: 2px;">1</span>	① ② ● ④ ⑤ ⑥ ⑦ ⑧ ⑨ ⑩ ⊖



問題は、次のページから始まります。

## 教科等に関する問題

1 地理的分野に関する次の各問に答えよ。

〔問 1〕 次の国土地理院発行の地形図の一部から読み取れるものとして適切なものは、次のページの1～4のうちのどれか。解答番号は 1。



(1 : 25,000 「関ヶ原」平成27年調製から作成)

- 1 天満山と松尾山の山頂付近には共に三角点があり、高低差は95mであって、天満山の山頂は松尾山を見下ろす位置にある。
- 2 東海道本線を東京方面へ向かう列車は、西から「関ヶ原駅」に到着し、東へ出発した後、左へ分岐する線路を進み、北側の山地の麓にある二つのトンネルを抜ける。
- 3 史跡の「岡山烽火場」付近にある瑞竜寺の東側を北へ向かう徒歩道は、尾根を伝う道である。
- 4 史跡の「開戦地」と「最後決戦地」との地図上の距離を測ったところ、2.5cmであったので、この2地点間の実際の距離は1 kmである。

[問 2] 次の記述は、ある海峡に関するものである。この海峡の位置として適切なものは、下の略地図中の1～4のうちのどれか。解答番号は  。

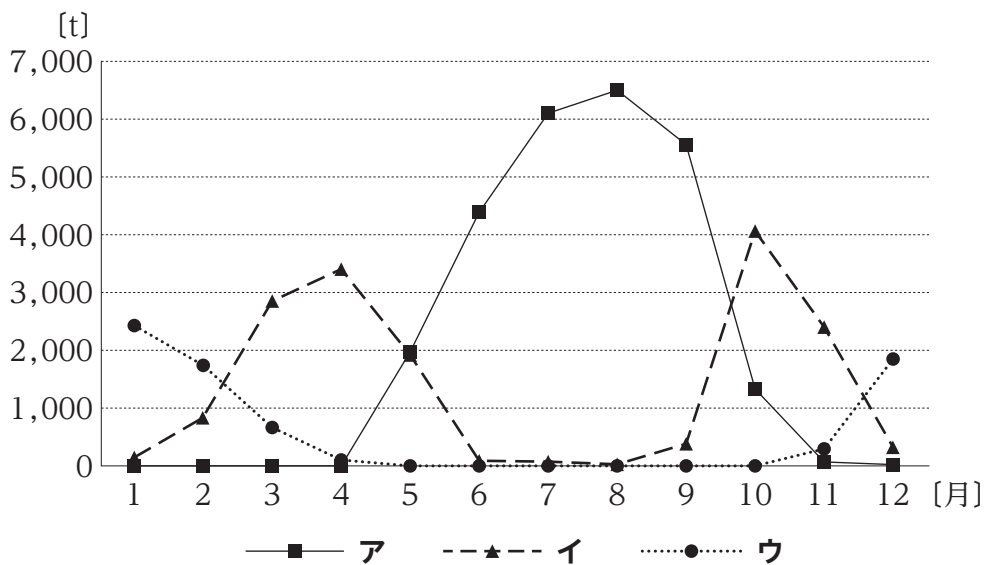
この海峡は、ヨーロッパと東アジアとを結ぶ幹線航路をなしており、原油を中東から日本へ運ぶタンカーなど、年間の通過船舶数は50,000隻を超える。しかし、平均水深が浅いため、通過する船舶の大きさには制限がある。また、海賊による船舶への襲撃が多く、沿岸諸国の海軍が警備を強化している。



[問 3] 次の略地図中の地点①～③は、いずれもレタスの産地であり、下の図中のア～ウは、それぞれ地点①～③を含む県で生産されたレタスの東京都中央卸売市場における2019年の月別の取扱実績を示している。また、次のページの雨温図A～Cは、地点①～③のいずれかのものである。ア～ウと、A～Cとの組合せのうち、地点①を表しているものとして適切なものは、次のページの1～9のうちのどれか。解答番号は 3。

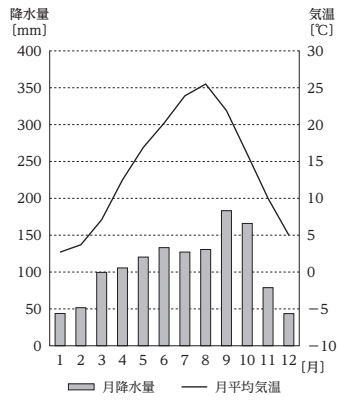


図



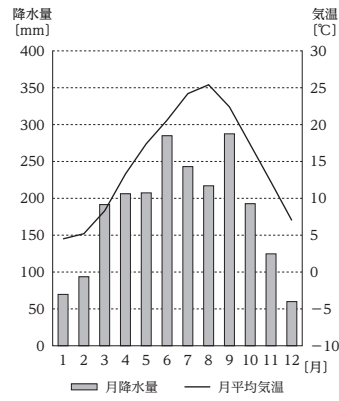
(東京都中央卸売市場ホームページから作成)

A



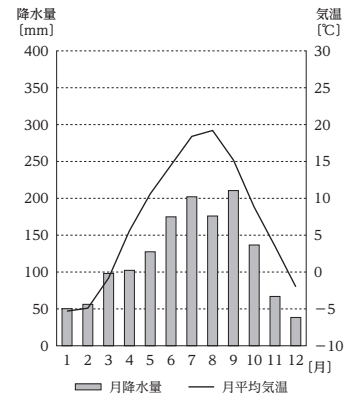
年平均気温： 13.8℃  
年降水量：1282.9mm

B



年平均気温： 14.8℃  
年降水量：2157.1mm

C



年平均気温： 6.9℃  
年降水量：1439.9mm


※ 気温及び降水量は、1981年から2010年までの30年間の観測値の平均を基に算出した値である。

(気象庁ホームページから作成)

- 1 アーA
- 2 アーB
- 3 アーC
- 4 イーA
- 5 イーB
- 6 イーC
- 7 ウーA
- 8 ウーB
- 9 ウーC

[問 4] 次の図ア～エは、中国、フランス、ロシア、アメリカのいずれかの国の2017年における一次エネルギー供給構成を表したものである。図中のア・ウに当てはまる国名の組合せとして適切なものは、下の1～8のうちどれか。解答番号は  。

図



石炭   
 石油   
 天然ガス   
 原子力   
 その他

(矢野恒太記念会「世界国勢図会 2020/21年版」から作成)

- |   |   |      |   |      |
|---|---|------|---|------|
| 1 | ア | 中国   | ウ | フランス |
| 2 | ア | 中国   | ウ | アメリカ |
| 3 | ア | フランス | ウ | 中国   |
| 4 | ア | フランス | ウ | ロシア  |
| 5 | ア | ロシア  | ウ | フランス |
| 6 | ア | ロシア  | ウ | アメリカ |
| 7 | ア | アメリカ | ウ | 中国   |
| 8 | ア | アメリカ | ウ | ロシア  |



2 歴史的分野に関する次の各問に答えよ。

[問 1] 東北地方の歴史に関する次の記述ア～エを年代の古いものから順に並べたものとして適切なものは、下の 1～4 のうちのどれか。解答番号は  。

- ア 坂上田村麻呂は鎮守府を胆沢城に移すとともに、蝦夷の族長阿弭流為を降伏させた。
- イ 藤原清衡は平泉に中尊寺金色堂を建立し、以後、奥州藤原氏の廟所となった。
- ウ 源頼義は陸奥守に任命され、陸奥の安倍頼良の反乱に対応した。
- エ 日本海側に淳足柵、磐舟柵が設置された。

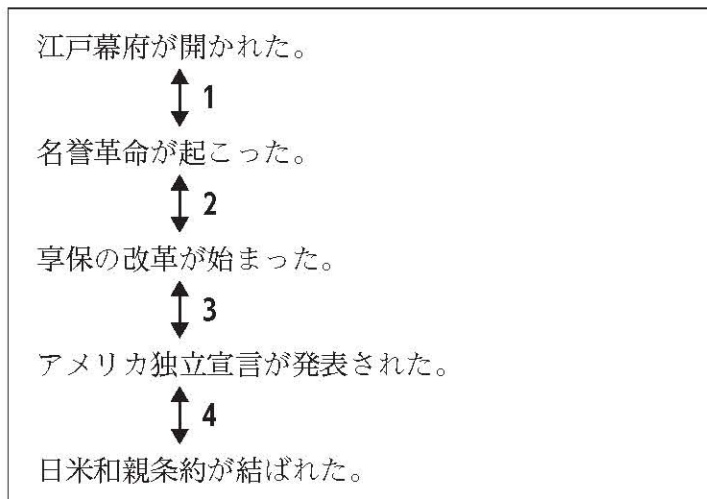
- 1 ア → エ → イ → ウ
- 2 ア → エ → ウ → イ
- 3 エ → ア → イ → ウ
- 4 エ → ア → ウ → イ

[問 2] 次の史料は、ある宣言文の一部である。この宣言文が採択された時期として適切なものは、下の図中 1～4 のうちのどれか。解答番号は  。

史料

掲載許可が得られていませんので、掲載いたしません。

図



[問 3] 農業に関する次の記述ア～エのうち、江戸時代に関するものの組合せとして適切なものは、下の 1～6 のうちのどれか。解答番号は  。

- ア 治水や灌漑の技術が高まり、紫雲寺潟新田や武蔵野新田など大規模な新田開発が行われた。
- イ 稲の品種改良が進むとともに、二毛作が全国的に普及して畿内では三毛作も行われるようになった。
- ウ 刈った草を腐敗させて肥料とする刈敷や、草木を灰にした草木灰などの肥料が広く用いられ始めるとともに、牛馬耕が広まった。
- エ 備中鍬や千歯扱などの農具が改良されて村々に広く普及し、反当たりの収穫量が上昇した。

- 1 ア・イ      2 ア・ウ      3 ア・エ  
4 イ・ウ      5 イ・エ      6 ウ・エ

[問 4] 次の史料は、オランダの国王から我が国の指導者に宛てたある書簡の一部である。この書簡が出された時期に最も近い時期の出来事として適切なものは、下の 1～4 のうちのどれか。解答番号は  。

史料

掲載許可が得られていませんので、掲載いたしません。

- 1 武昌の軍隊のなかにいた革命派が蜂起し、辛亥革命が始まった。
- 2 北京の学生を中心に行われた抗議デモをきっかけに、五・四運動が起こった。
- 3 アヘン戦争に敗れた清国は、イギリスと南京条約を結んだ。
- 4 幅広い階層の人々が立ち上がってインド大反乱が起こった。

**3** 公民的分野に関する次の各問に答えよ。

[問 1] 先哲の思想に関する記述として適切なものは、次の 1～4 のうちのどれか。解答番号は **9**。

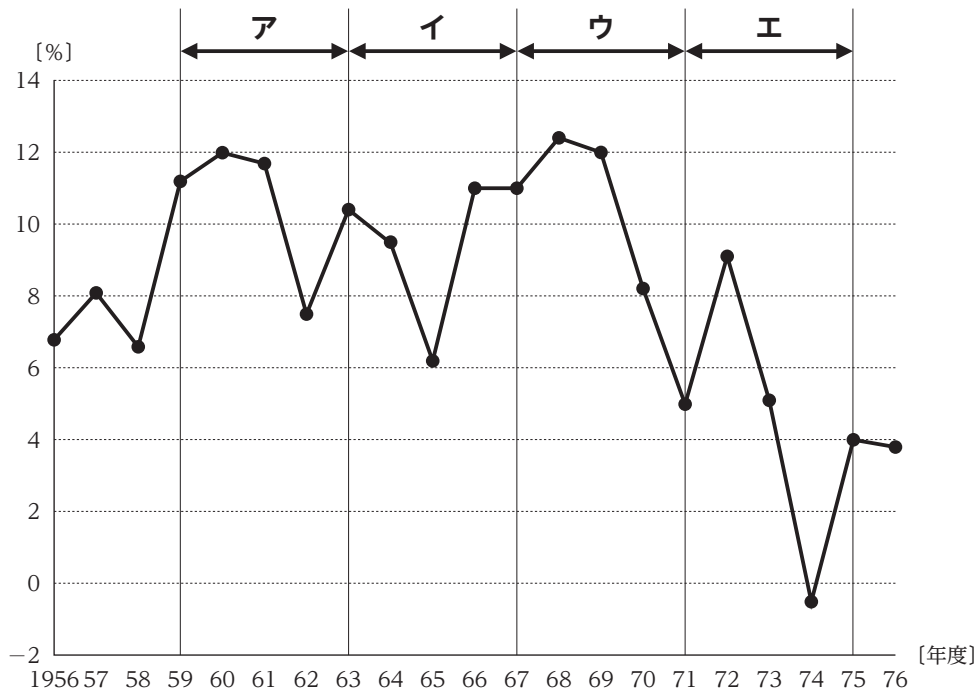
- 1 プラトンは、アテネの人々に対して、魂をすぐれたものにするために無知を自覚させることが自分の使命であると考え、対話を通じて真の徳を授けてまわった。
- 2 イエスは、ユダヤ教の形式的な律法を批判し、律法が神の意志そのものとは関係のないものであるとして、あらゆる律法が不要な状態を理想とした。
- 3 ガウタマ・シッダールタは、親子兄弟の間に発する自然な親愛の情である仁を、様々な人間関係におし広めていくことが、自らの解脱に通ずるとした。
- 4 孟子は、他人の不幸を見過ごすことができない惻隱の心を養い育てていくことで、仁の徳を身に付けることができるとした。

[問 2] 国会に関する記述として適切なものは、次の 1～4 のうちのどれか。解答番号は **10**。

- 1 法律案について、衆議院で可決し、参議院でこれと異なった議決をした法律案は、衆議院で出席議員の過半数で再び可決したときは、法律となる。参議院が、衆議院の可決した法律案を受け取った後、国会休会中の期間を除いて60日以内に、議決しないときは、衆議院は、参議院がその法律案を否決したものとみなすことができる。
- 2 予算について、参議院で衆議院と異なった議決をした場合に、法律の定めるところにより、両議院の協議会を開いても意見が一致しないとき、又は参議院が、衆議院の可決した予算を受け取った後、国会休会中の期間を除いて10日以内に、議決しないときは、衆議院の議決を国会の議決とする。
- 3 条約の締結に必要な国会の承認について、衆議院が承認の議決をした後、国会休会中の期間を除いて60日以内に、参議院が、承認の議決をしないときは、衆議院は、参議院がその条約の承認を否決したものとみなすことができる。
- 4 内閣総理大臣の指名について、衆議院と参議院とが異なった指名の議決をした場合に、法律の定めるところにより、両議院の協議会を開いても意見が一致しないとき、又は衆議院が指名の議決をした後、国会休会中の期間を除いて10日以内に、参議院が、指名の議決をしないときは、衆議院の議決を国会の議決とする。

[問 3] 次の図は、1956年度から1976年度までの我が国の実質GDPの前年度に対する増加率の推移を表したものである。また、下の記述A～Dは、図中ア～エのいずれかの時期における我が国の経済に関するものである。図中ア～エと、記述A～Dとの組合せとして適切なものは、次のページの1～8のうちどれか。解答番号は 11。

図



(内閣府「国民経済計算」などから作成)

- A この時期に、GNP総額が西ドイツを抜いて資本主義国中世界第2位となり、白黒テレビの普及率がピークに達した。
- B この時期に、10年間でGNPを2倍にすることを目標とした国民所得倍増計画や、地域間の均衡ある発展を目標とした最初の全国総合開発計画が閣議決定された。
- C この時期に、列島改造ブームによる物価高に加え、原油価格の高騰に伴う物価の上昇から、狂乱物価と呼ばれる急激なインフレが発生した。
- D この時期に、東海道新幹線が開業し、その他交通インフラの建設需要から好況となったが、その後に起きた不況による税収減に対応するため初の建設国債が発行された。

- |   |     |     |     |     |
|---|-----|-----|-----|-----|
| 1 | ア－A | イ－B | ウ－C | エ－D |
| 2 | ア－A | イ－D | ウ－B | エ－C |
| 3 | ア－B | イ－A | ウ－C | エ－D |
| 4 | ア－B | イ－D | ウ－A | エ－C |
| 5 | ア－C | イ－B | ウ－A | エ－D |
| 6 | ア－C | イ－D | ウ－B | エ－A |
| 7 | ア－D | イ－B | ウ－A | エ－C |
| 8 | ア－D | イ－C | ウ－B | エ－A |

[問 4] 国際連合に関する記述として適切なものは、次の1～4のうちのどれか。解答番号は

。

- 1 総会は、全加盟国が一国一票の対等な立場で参加し、総会の決定は全会一致を原則としている。
- 2 安全保障理事会は、アメリカ、ロシア、イギリス、ドイツ、中国の常任理事国5か国と2年の任期で選出された非常任理事国10か国で構成されている。
- 3 国際司法裁判所は、強制的管轄権がないため、紛争当事国が裁判をすることに同意しない限り、裁判を始めることはできない。
- 4 経済社会理事会は、経済、社会及び文化などの各分野での国際協力の中心を担い、国連難民高等弁務官事務所などの専門機関と連携して、国際的な取組を進めている。

余 白

## 特別支援教育の専門に関する問題

I 特別支援教育に関する次の各問に答えよ。

[問 1] 「特別支援教育の推進について (通知)」(文部科学省 平成19年 4月 1日) に関する次の記述ア～エのうち、正しいものを選んだ組合せとして適切なものは、下の 1～6 のうちのどれか。解答番号は  。

- ア** 特別支援教育は、障害のある幼児児童生徒の自立や社会参加に向けた主体的な取組を支援するという視点に立ち、幼児児童生徒一人一人の教育的ニーズを把握し、その持つ力を高め、生活や学習上の困難を改善又は克服するため、適切な指導及び必要な支援を行うものである。
- イ** 障害のある幼児児童生徒と障害のない幼児児童生徒との交流及び共同学習について、各学校においては、双方の幼児児童生徒の教育的ニーズに対応した内容・方法を十分検討し、早期から組織的、計画的、継続的に実施することなど、一層の効果的な実施に向けた取組を推進する。
- ウ** 特別支援学校においては、地域における特別支援教育のセンターとしての機能の充実を図り、地域の各学校等の要請に応じて、発達障害を含む障害のある幼児児童生徒のための個別の指導計画や個別の教育支援計画の作成及びその内容を踏まえた幼児児童生徒への直接の指導を行う。
- エ** 各学校においては、特別支援学校での勤務経験のある者の中から校長が指名した特別支援教育コーディネーターが、全校的な支援体制を確立し、発達障害を含む障害のある幼児児童生徒の実態把握や支援方策の検討を行うための校内委員会を設置する。

- 1 ア・イ
- 2 ア・ウ
- 3 ア・エ
- 4 イ・ウ
- 5 イ・エ
- 6 ウ・エ

[問 2] 就学に関する次の記述**ア**～**エ**のうち、学校教育法施行令に照らして、正しいものを選んで組合せとして適切なものは、下の**1**～**6**のうちのどれか。解答番号は 14。

**ア** 都道府県の教育委員会は、就学予定者のうち、その者の障害の状態に照らして、区市町村の設置する小学校又は中学校において適切な教育を受けることができる特別の事情があるものと認める者について、その保護者に対し、翌学年の初めから二月前までに、小学校、中学校又は義務教育学校の入学期日を通知しなければならない。

**イ** 特別支援学校に在学する学齢児童又は学齢生徒でその障害の状態、その者の教育上必要な支援の内容、地域における教育の体制の整備の状況その他の事情の変化により、当該学齢児童又は学齢生徒の住所の存する区市町村の設置する小学校、中学校又は義務教育学校に就学することが適当であると思料するもの（視覚障害者でなくなった者を除く。）があるときは、当該学齢児童又は学齢生徒の在学する特別支援学校の校長は、速やかに、当該学齢児童又は学齢生徒の住所の存する都道府県の教育委員会に対し、その旨を通知しなければならない。

**ウ** 都道府県の教育委員会は、当該都道府県の設置する特別支援学校が2校以上ある場合においては、区域外就学等の届出の通知を受けた児童生徒等を除き、特別支援学校への就学についての通知を受けた児童生徒等を就学させるべき特別支援学校を指定しなければならない。

**エ** 区市町村の教育委員会は、児童生徒等のうち視覚障害者等について、小学校、中学校又は特別支援学校への就学又は転学に係る通知をしようとするときは、教育学、医学、心理学その他の障害のある児童生徒等の就学に関する専門的知識を有する者の意見を当該児童生徒等の保護者の意見に優先して聴かななければならない。

- 1 ア・イ
- 2 ア・ウ
- 3 ア・エ
- 4 イ・ウ
- 5 イ・エ
- 6 ウ・エ



[問 3] 特別支援教育に関連する法令の内容に関する次の記述**ア**～**エ**のうち、正しいものを選んで組合せとして適切なものは、下の**1**～**6**のうちのどれか。解答番号は 15。

**ア** 「学校教育法施行規則」では、特別支援学校の小学部又は中学部の1学級の児童又は生徒の数は、法令に特別の定めのある場合を除き、視覚障害者又は聴覚障害者である児童又は生徒に対する教育を行う学級にあつては15人以下を標準とするとされている。

**イ** 「障害者基本法」では、全ての国民が、障害の有無によって分け隔てられることなく、相互に人格と個性を尊重し合いながら共生する社会を実現するため、障害者の自立及び社会参加の支援等のための施策に関し、基本原則を定め、障害者の自立及び社会参加の支援等のための施策を総合的かつ計画的に推進することを目的としている。

**ウ** 「発達障害者支援法」では、国及び地方公共団体は、発達障害のある児童生徒が、その年齢及び能力に応じ、かつ、その特性を踏まえた十分な教育や必要な支援を受けられるようにするため、発達障害のある児童生徒のみを対象とした教育を受けられるよう特別支援学校の体制を整備するなど、必要な措置を講じるものとしている。

**エ** 「障害を理由とする差別の解消の推進に関する法律」では、国、都道府県、区市町村などの行政機関や、会社や店などの事業者が、障害のある人に対して、正当な理由なく、障害を理由として差別することを禁止しており、ボランティア活動をするグループなども事業者として捉えている。

- 1 ア・イ
- 2 ア・ウ
- 3 ア・エ
- 4 イ・ウ
- 5 イ・エ
- 6 ウ・エ

**II**

学習指導要領に関する次の各問に答えよ。

[問 1] 特別支援学校高等部学習指導要領総則の「教育課程の編成」に関する次の記述**ア**～**エ**のうち、正しいものを選んだ組合せとして適切なものは、下の**1**～**6**のうちのどれか。解答番号は 。

**ア** 教育課程の編成に当たっては、学校教育全体、各教科・科目等及び各教科等において、それぞれの指導を通して育成を目指す資質・能力を踏まえつつ、各学校の教育目標を明確にするとともに、教育課程の編成についての基本的な方針が家庭や地域とも共有されるよう努めるものとする。

**イ** 各学校においては、生徒の障害の状態や特性及び心身の発達の段階等を考慮し、言語能力、情報活用能力（情報モラルを含む。）、問題発見・解決能力等の学習の基盤となる資質・能力を育成していくことができるよう、各教科・科目等又は各教科等の特質を生かし、教科等横断的な視点から教育課程の編成を図るものとする。

**ウ** 肢体不自由者又は病弱者である生徒に対する教育を行う特別支援学校にあつては、主として専門学科において開設される、印刷やクリーニングなどの各教科・科目及び設置者の定めるそれぞれの標準単位数を踏まえ、生徒に履修させる各教科・科目及びその単位数について適切に定めるものとする。

**エ** 知的障害者である生徒に対する教育を行う特別支援学校にあつては、各教科等の総授業時数は、各学年とも1,015単位時間を標準とし、特に必要がある場合には、これを増加することができる。この場合、各教科等の目標及び内容を考慮し、各教科及び総合的な探究の時間の配当学年及び当該学年における授業時数、道徳科、特別活動及び自立活動の各学年における授業時数を適切に定めるものとする。

1 ア・イ

2 ア・ウ

3 ア・エ

4 イ・ウ

5 イ・エ

6 ウ・エ

[問 2] 特別支援学校高等部学習指導要領総則の「教育課程の編成」の「教育課程の編成における共通的事項」の「キャリア教育及び職業教育に関して配慮すべき事項」に関する次の記述ア～エのうち、正しいものを選んだ組合せとして適切なものは、下の1～6のうちどれか。解答番号は  。

**ア** 職業に関する各教科・科目については、就業体験活動をもって実習に替えることができること。この場合、就業体験活動は、その各教科・科目の内容に直接関係がなくても、あらかじめ計画し、評価されるものであることを要すること。

**イ** 普通科においては、生徒の障害の状態や特性及び心身の発達の段階等、学校や地域の実態等を考慮し、必要に応じて、適切な職業に関する各教科・科目の履修の機会の確保について配慮するものとする。

**ウ** 職業教育を主とする専門学科においては、生徒の実態を考慮し、職業に関する各教科・科目の履修を容易にするため特別な配慮が必要な場合には、各分野における基礎的又は中核的な科目を重点的に選択し、その内容については基礎的・基本的な事項が確実に身に付くように取り扱い、また、主として実験・実習によって指導するなどの工夫をこらすようにすること。

**エ** 職業に関する各教科・科目については、工業、家庭及び情報に関する各教科・科目の指導に当たっては、ホームプロジェクトなどの活動を活用して、学習の効果を上げるよう留意すること。この場合、ホームプロジェクトについては、適切な授業時数をこれに充てることができること。

- 1 ア・イ
- 2 ア・ウ
- 3 ア・エ
- 4 イ・ウ
- 5 イ・エ
- 6 ウ・エ

Ⅲ

次の事例を読み、下の各問に答えよ。

生徒Aは知的障害特別支援学校中学部第1学年に在籍する知的障害と自閉症のある生徒である。

生徒Aの様子

- ・ 手指の巧緻性が高く、創作活動が好きである。
- ・ ①創作活動に取り組んでいると、教員の指示があってもやめることができず、作り続けることがしばしばある。
- ・ 活動の見通しがもてないときや困ったことがあったときに、気持ちを伝えることが難しい。
- ・ 安心できる担任には、「できました」など言葉での報告ができるときがある。
- ・ ②要求がかなわないときや、嫌いな音がするなどの不快なことがあったときに、大きな声を出したり、人やものなどをたたこうとしたりするなどの行動が見られる。
- ・ 一斉指導や音声による指示は、理解できないことがしばしばある。
- ・ 周りの動きに合わせて行動しているが、1日の細かいスケジュール等を理解することは難しい。

(「知的障害特別支援学校の教育課程の充実に向けて」(東京都教育委員会 平成29年3月)から作成)

[問 1] 下線部①について、次の記述ア～エのうち、「生徒Aの様子」や障害の特性等を踏まえた支援として、正しいものを選んだ組合せとして最も適切なものは、下の1～6のうちではどれか。解答番号は  。

- ア 興味や関心のある活動中に教員が「楽しいね」、「うれしいね」などと言葉をかけて、人とやり取りすることや通じ合う楽しさを感じられるようにする。
- イ 活動に固執し切り換えるのが難しいのは、自分にとって快適な刺激を得るためなので、毅然と対応してやめさせる。
- ウ 活動に固執してやめられないときには、「もう少し」、「そのくらい」など、意味内容に幅のある言葉で、やめるタイミングを示す。
- エ 固執してしまう活動では、あらかじめ活動する時間を決めておき、タイマーを使って残り時間が視覚的にわかるようにする。

- |   |     |   |     |   |     |
|---|-----|---|-----|---|-----|
| 1 | ア・イ | 2 | ア・ウ | 3 | ア・エ |
| 4 | イ・ウ | 5 | イ・エ | 6 | ウ・エ |

[問 2] 下線部②について、次の記述**ア**～**エ**のうち、「生徒Aの様子」や障害の特性等を踏まえた支援として、正しいものを選んだ組合せとして最も適切なものは、下の**1**～**6**のうちではどれか。解答番号は 。

- ア** 嫌いな音に反応したときは、ノイズキャンセルヘッドホン等を使用して音量を調整する。
- イ** 生徒Aにとって苦手な音は、他の生徒にとっても一律に不快なので、音を除去する。
- ウ** 不快な気持ちを伝えられるように、感情を表した絵カードを使用する。
- エ** その場で初めて経験する新しい活動を用意し、取り組めるようにする。

- 1** ア・イ
- 2** ア・ウ
- 3** ア・エ
- 4** イ・ウ
- 5** イ・エ
- 6** ウ・エ

[問 3] 生徒Aに対して、指導目標を「いろいろな教員に対して作業が完了したら『できました』と伝えられるようになる。」と設定した。次の記述**ア**～**エ**のうち、この目標を達成するために「生徒Aの様子」や障害の特性等を踏まえた支援として、正しいものを選んだ組合せとして最も適切なものは、下の**1**～**6**のうちではどれか。解答番号は 。

- ア** 話す人の方向を見て報告することは、障害の特性上困難なので指導しない。
- イ** 日頃関わりのない多くの教員とのやり取り場面を設定する。
- ウ** 日常的に報告の場面を作ったり、自分の気持ちを言葉で表現する経験を重ねたりすることで、相談することのよさが実感できるようにする。
- エ** 人と協力して遂行するゲーム等をして、適切な関わりができるようにする。

- 1** ア・イ
- 2** ア・ウ
- 3** ア・エ
- 4** イ・ウ
- 5** イ・エ
- 6** ウ・エ

**IV** 障害に関する次の各問に答えよ。

[問 1] 視覚障害の眼疾患の一つである網膜色素変性症に関する記述として最も適切なものは、次の 1～4 のうちではどれか。解答番号は **21**。

- 1 視神経乳頭、視野に特徴的变化を示し、通常、眼圧を十分に下げることにより視神経障害の改善あるいは進行の阻止が可能な、眼の機能的構造的異常を特徴とする疾患である。眼球破裂の危険性があり、防御眼鏡の装着を検討することも必要である。
- 2 未熟児に生後まもなく発症する可能性のある網膜の異常であり、視力や視野は正常な人から全盲の人まで個人差がある疾患である。屈折異常の矯正、網膜剥離の予防などへの対応が必要である。
- 3 乳幼児の網膜に発生する悪性腫瘍で、腫瘍が大きくなると光で反射して瞳孔が光る疾患である。二次腫瘍発生の可能性があり、生涯にわたり経過観察が必要である。
- 4 網膜桿体の機能低下が生じた状態で、暗い所が見えにくい夜盲や周辺が見えない視野狭窄が生じていく疾患である。多くは進行性であり、そのため心理的ケアが必要である。

[問 2] 聴覚障害の起因疾患とその特徴に関する記述として最も適切なものは、次の 1～4 のうちではどれか。解答番号は **22**。

- 1 耳硬化症は、骨の異常増殖によりツチ骨が固着することを原因とし、進行性難聴や耳鳴の症状を特徴とする両側性の疾患である。
- 2 滲出性中耳炎は、耳管機能が不良となり中耳腔に滲出液が貯留することを原因とし、軽度の難聴や低音性の耳鳴、耳閉塞感の症状を特徴とする疾患である。
- 3 メニエール病は、回転性のめまいや難聴、耳鳴の症状が反復消長することを特徴とし、一側性より両側性の症例が多い疾患である。
- 4 音響外傷は、騒音職場などで長期間就労していることを原因とし、徐々に聴力が低下していく症状を特徴とする慢性発症型の難聴である。

[問 3] 肢体不自由児の知的機能の発達の検査に関する記述として適切なものは、次の1～4のうちのどれか。解答番号は  。

- 1 言語障害や上肢の障害による表出手段の著しい困難などのために、妥当性の高い検査値を求めることができない場合があるので、検査目的を明確にするとともに、その結果を弾力的に解釈できるような工夫を行って実施する必要がある。
- 2 標準化された知能検査を行う場合には、時間制限があったり、運動速度を必要としたりする個別式知能検査のみではなく、子供が持っている力を十分に発揮させるために検査者との関係性を大切にしながら集団式知能検査を併用して実施する必要がある。
- 3 運動・動作の障害や言語障害などがある子供に対する配慮が十分になされていない検査があるため、知能検査を厳密に行うと目と手の協応、運動速度、言語などを必要とする検査項目の成績が高く現れることに留意して実施する必要がある。
- 4 知能検査を実施する場合には、問題内容の変更や音声出力装置などの代替表現の工夫、障害の状態や程度を考慮した検査時間の延長などを行うことで、子供に合わせて実施する必要がある。

[問 4] 知的障害の起因疾患とその特徴に関する次の記述ア～エのうち、正しいものを選んだ組合せとして最も適切なものは、下の1～6のうちではどれか。解答番号は  。

- ア** プラダー・ウィリー症候群は、アミノ酸の代謝異常を原因とし、低緊張、過食とそれによる肥満、小さい手足などを特徴とする疾患である。
- イ** ダウン症候群は、21番染色体の過剰を原因とし、低緊張、先天性心疾患、低身長などを伴う疾患である。
- ウ** レット症候群は、女兒に多くみられ、視線回避、上肢の常同運動、小頭症などを特徴とする疾患である。
- エ** フェニルケトン尿症は、15番染色体の異常を原因とし、わずかな発語、発作的な笑い、失調性歩行などを特徴とする疾患である。

- 1 ア・イ
- 2 ア・ウ
- 3 ア・エ
- 4 イ・ウ
- 5 イ・エ
- 6 ウ・エ

[問 5] 「教育支援資料～障害のある子供の就学手続と早期からの一貫した支援の充実～」(文部科学省 平成25年10月)の「V 病弱・身体虚弱」に関する次の記述**ア**～**エ**のうち、正しいものを選んだ組合せとして適切なものは、下の**1**～**6**のうちのどれか。解答番号は

**25**。

**ア** 病弱とは、病気ではないが身体が不調な状態が続く、病気にかかりやすいといった状態を表している。また、身体虚弱とは心身の病気のため弱っている状態を表している。これらの用語は、このような状態が継続して起こる、又は繰り返して起こる場合に用いられる。

**イ** 病弱教育では、病気の自己管理能力を育成することは重要な指導事項の一つである。そのため、病弱児にとって必要な生活規制とは、他人からの規制ではなく「生活の自己管理」と考えて取り組むことが大切である。

**ウ** 白血病は、血液の製造所である骨髄で異常な未熟白血球が増殖し、その浸潤により、正常造血機能の抑制を来す病気である。急性骨髄性白血病、急性リンパ性白血病、慢性骨髄性白血病など多くの種類があり、子供には急性リンパ性白血病が多い。

**エ** 気管支喘息は、気道の慢性的な炎症によって反応性が低くなり、種々の刺激により気管支平滑筋の弛緩、粘膜の腫れなどを来し、発作性に咳や喘鳴を伴う呼吸困難を繰り返す疾患である。

**1** ア・イ

**2** ア・ウ

**3** ア・エ

**4** イ・ウ

**5** イ・エ

**6** ウ・エ



